



مبارزه علمی برای جوانان، زنده کردن روح جست‌وجو و کشف واقعیت‌هاست. «امام خمینی (ره)»

دفترچه سؤالات مرحله دوم
سی و پنجمین دوره المپیاد کامپیوتر (روز اول)
سال ۱۴۰۳-۱۴۰۴

تاریخ: ۱۴۰۴/۱/۲۵ - ساعت: ۸:۰۰ - مدت: ۲۱۰ دقیقه - نوع: چندگزینه‌ای

استفاده از هر نوع ماشین حساب ممنوع است

توضیحات مهم

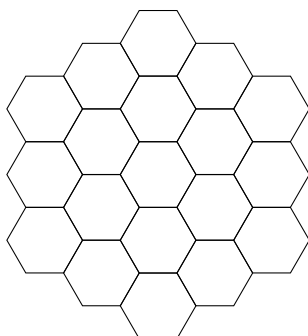
- ۱- بلافاصله پس از آغاز آزمون، تعداد سؤالات داخل دفترچه و همه برگه‌های دفترچه سؤالات را بررسی نمایید. در صورت هرگونه نقص در دفترچه، در اسرع وقت مسئول جلسه را مطلع کنید.
- ۲- یک برگ پاسخ‌برگ در اختیار شما قرار گرفته که مشخصات شما بر روی آن نوشته شده است. در صورت نادرست بودن آن، در اسرع وقت مسئول جلسه را مطلع کنید. ضمناً مشخصات خواسته‌شده در پایین پاسخ‌برگ را با مداد مشکی بنویسید.
- ۳- کلیه جواب‌ها باید در پاسخ‌برگ وارد شود. پاسخ‌های نوشته شده در دفترچه سوال تصحیح نشده و به آن‌ها هیچ امتیازی تعلق نخواهد گرفت.
- ۴- برگه پاسخ‌برگ را دستگاه تصحیح می‌کند؛ پس آن را تا نکنید و تمیز نگه دارید و به علاوه، پاسخ هر پرسش را با مداد مشکی نرم در محل مربوط علامت بزنید. لطفاً خانه مورد نظر را کاملاً سیاه کنید.
- ۵- دفترچه سؤال باید همراه پاسخ‌برگ تحویل داده شود.
- ۶- پاسخ درست به هر پرسش ۴ نمره مثبت و پاسخ نادرست ۱ نمره منفی دارد.
- ۷- از مخدوش کردن بارکدها و مربع‌ها در چهارگوشه صفحه در دفترچه پاسخ‌برگ جداً خودداری کنید. در غیر این صورت برگه شما تصحیح نخواهد شد.
- ۸- همراه داشتن هر گونه کتاب، جزوه، یادداشت و لوازم الکترونیکی نظیر تلفن همراه، ساعت هوشمند، دستبند هوشمند و لپتاپ ممنوع است. همراه داشتن این قبیل وسایل حتی اگر از آن استفاده نکنید یا خاموش باشد تقلب محسوب خواهد شد.
- ۹- این دفترچه شامل ۲۰ سوال چندگزینه‌ای و با احتساب جلد ۴ برگ است.

پایگاه اینترنتی کمیته ملی کامپیوتر www.opedia.ir

مرحله‌ی دوم سی و پنجمین المپیاد کامپیوتر کشور - آزمون چندگزینه‌ای

- زمان آزمون ۲۱۰ دقیقه است.
- آزمون ۲۰ سوال دارد.
- پاسخ درست به هر سوال ۴ نمره‌ی مثبت و پاسخ نادرست به هر سوال ۱ نمره‌ی منفی دارد.
- ترتیب گزینه‌ها به طور تصادفی است.
- سوالات ۱۶ تا ۲۰ در دسته‌های چند سوالی آمده‌اند و قبل از هر دسته توضیحی ارائه شده است.

۱ می‌خواهیم خانه‌های شکل زیر را با رنگ‌های سفید و سیاه رنگ‌آمیزی کنیم. تلاطم یک رنگ‌آمیزی برابر با تعداد جفت خانه‌های هم‌رنگی است که یک ضلع مشترک دارند. کمترین میزان تلاطم که می‌توانیم با رنگ‌آمیزی جدول به دست آوریم چند است؟



۱۲ (۵)

۱۴ (۴)

۹ (۳)

۱۰ (۲)

۱۳ (۱)

۲ الگوریتم زیر را در نظر بگیرید:

۱. آرایه‌ی A به طول n را ورودی بگیر.
۲. اگر آرایه‌ی A مرتب بود، به مرحله‌ی ۷ برو.
۳. دو آرایه‌ی $X = A[1 \dots \lfloor \frac{n}{7} \rfloor]$ و $Y = A[\lfloor \frac{n}{7} \rfloor + 1 \dots n]$ را در نظر بگیر.
۴. عدد صحیح t را ورودی بگیر؛ اگر t عددی زوج بود، به مرحله‌ی ۶ برو.
۵. آرایه‌ی A را برابر با X و مقدار n را برابر با $\lfloor \frac{n}{7} \rfloor$ قرار بده. سپس به مرحله‌ی ۲ برو.
۶. آرایه‌ی A را برابر با Y و مقدار n را برابر با $n - \lfloor \frac{n}{7} \rfloor$ قرار بده. سپس به مرحله‌ی ۲ برو.
۷. آرایه‌ی A را خروجی بده.
۸. پایان.

منظور از $A[l \dots r]$ بازه‌ی l تا r از آرایه‌ی A (شامل خود l و r) است؛ برای مثال اگر $A = \langle 2, 1, 3, 5, 4 \rangle$ باشد $A[2 \dots 4] = \langle 1, 3, 5 \rangle$ می‌شود. اگر مقادیر t را به صورتی ورودی دهیم که طول آرایه‌ی نهایی بیشینه شود، به ازای چند جایگشت اولیه از اعداد ۱ تا ۸ طول آرایه‌ی نهایی حداقل برابر با ۲ خواهد بود؟

۳۷۸۰۰ (۵)

۳۰۲۴۰ (۴)

۳۴۵۱۰ (۳)

۴۰۳۲۰ (۲)

۲۰۱۶۰ (۱)

۳ در شهر جادوگرها شش نفر زندگی می‌کنند که هرکدام از آن‌ها راستگو یا دروغگو هستند. افراد راستگو همواره راست و افراد دروغگو همواره دروغ می‌گویند. سِلتی می‌خواهد متوجه راستگو یا دروغگو بودن هرکدام از آن‌ها شود و در نتیجه از آن‌ها خواست اطلاعاتی در رابطه با خود و دیگران به او بدهند:

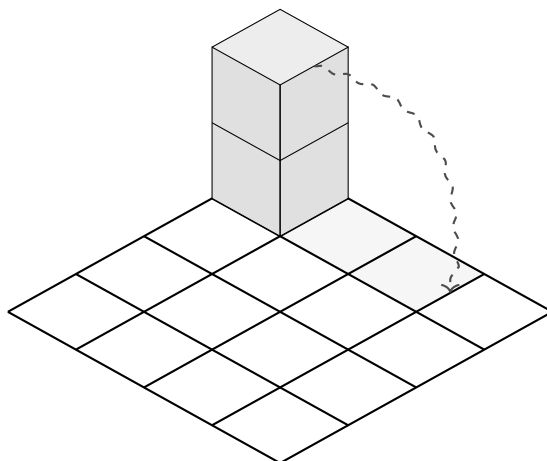
مرحله‌ی دوم سی و پنجمین المپیاد کامپیوتر کشور - آزمون چندگزینه‌ای

- فرد $A : B$ دروغ می‌گوید.
- فرد B : حداقل یکی از A و C دروغ می‌گویند.
- فرد $C : A$ راست می‌گوید.
- فرد D : دقیقاً دو نفر راست می‌گویند.
- فرد $E : D$ دروغ می‌گوید.
- فرد F : دقیقاً سه نفر راست می‌گویند.

سلتی به چند طریق می‌تواند راستگو یا دروغگو بودن افراد را مشخص کند، به نحوی که تناقضی در گفته‌های هیچ‌کدام از آن‌ها وجود نداشته باشد؟

- ۱ (۵) ۴ (۴) ۵ (۳) ۲ (۲) ۳ (۱)

۴ یک شش وجهی صورتی $1 \times 1 \times 2$ داریم که در یکی از گوشه‌های جدول 4×4 مانند شکل زیر قرار دارد. در هر گام می‌توان آن را روی یکی از وجه‌هایش غلتاند (به شرطی که از جدول بیرون نزنند) و تمام خانه‌های زیر آن را به رنگ صورتی درآورد (یک خانه می‌تواند چندین بار رنگ‌آمیزی شود). در ابتدا تمام خانه‌های جدول به جز خانه‌ی زیرین شش وجهی سفید هستند. حداقل چند گام لازم داریم تا کل جدول را به رنگ صورتی درآوریم؟



- ۸ (۵) ۹ (۴) ۱۲ (۳) ۱۰ (۲) ۱۱ (۱)

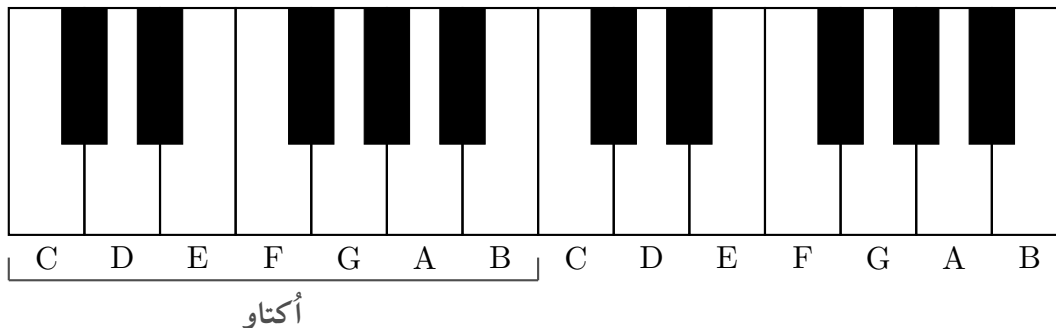
۵ جدولی 2×3 داریم که در آن سه جفت A, B, C وجود دارند. فاصله‌ی منتهی دو خانه‌ی (x, y) و (x', y') برابر با $|x - x'| + |y - y'|$ است؛ برای مثال در جدول زیر اگر مختصات هر خانه از جدول را برابر با شماره‌ی سطر و ستون آن در نظر بگیریم، جمع فواصل منتهی این سه جفت برابر با $5 = 1 + 1 + 3$ می‌شود. به ازای تمام حالات چینش این سه جفت در جدول، امید ریاضی جمع فواصل منتهی این جفت‌ها چه قدر است؟

B	B	A
A	C	C

- ۶ (۵) ۱۰ (۴) ۵ (۳) $\frac{11}{4}$ (۲) $\frac{9}{4}$ (۱)

مرحله‌ی دوم سی و پنجمین المپیاد کامپیوتر کشور - آزمون چندگزینه‌ای

۶ صفحه کلید پیانو از هفت اکتاو با چینشی یکسان تشکیل می‌شود که کنار هم قرار می‌گیرند. هر اکتاو از دوازده کلید سیاه و سفید تشکیل می‌شود که در چینش استاندارد، این ترکیب از هفت کلید سفید و پنج کلید سیاه تشکیل شده است. در شکل زیر می‌توانید چینش دو اکتاو متوالی در صفحه کلید اصلی پیانو را ببینید:



به دلیل کوچک‌تر بودن کلیدهای سیاه و سختی فشردن آن‌ها، نمی‌توان دو کلید سیاه پشت سر هم در صفحه کلید داشت و باید بین هر دو کلید سیاه مجاور حداقل یک کلید سفید وجود داشته باشد. با توجه به این محدودیت، چند اکتاو معتبر به طول ۱۲ با تعداد کلیدهای سفید و سیاه دلخواه می‌توان ساخت که در کل صفحه کلید (در یک اکتاو یا بین دو اکتاو متوالی) هیچ دو کلید سیاه مجاوری وجود نداشته باشد؟

۱۴۴ (۵) ۳۲۲ (۴) ۲۸۸ (۳) ۲۳۳ (۲) ۳۷۷ (۱)

۷ هفت دیو با قدرت‌های $\{1, 5, 6, 8, 10, 12, 13\}$ و هفت انسان با قدرت‌های $\{2, 3, 4, 7, 9, 11, 14\}$ داریم. می‌دانیم در هر جنگ، هفت جفت انسان و دیو نبرد تن به تن می‌کنند و از هر جفت، فرد قدرتمندتر زنده می‌ماند. دو چینش در صورتی متمایزند که فردی وجود داشته باشد که رقیب او در این دو چینش متفاوت باشد. به ازای چند چینش اولیه، تعداد انسان‌هایی که زنده می‌مانند بیشترین مقدار ممکن است؟

۲۴ (۵) ۱۰۸ (۴) ۷۲ (۳) ۱۴۴ (۲) ۴۲۰ (۱)

۸ جایگشتی از اعداد ۱ تا ۱۰ را در نظر بگیرید که می‌توانیم عملیات زیر را به تعدادی دلخواه روی آن انجام دهیم: در هر مرحله عددی دلخواه از جایگشت که تا به حال آن را انتخاب نکرده‌ایم را از جایگشت حذف و سپس به انتهای آن اضافه می‌کنیم؛ برای مثال جایگشت زیر پس از انتخاب عدد ۹ (در صورتی که تا به حال انتخاب نشده باشد) بدین شکل تغییر می‌یابد:

$$\langle 4, 1, 6, 9, 2, 3, 5, 10, 7, 8 \rangle \rightarrow \langle 4, 1, 6, 2, 3, 5, 10, 7, 8, 9 \rangle$$

تعداد جایگشت‌های اولیه‌ای که می‌توان با انجام دقیقاً پنج مرحله آن‌ها را تبدیل به یک جایگشت صعودی یا نزولی کرد چه قدر است؟

۱۵۱۲۰ (۵) ۶۰۴۸۰ (۴) ۳۰۴۹۲ (۳) ۳۰۲۴۰ (۲) ۶۰۲۲۸ (۱)

۹ برج سرداد ۵ طبقه دارد که در طبقه‌ی همکف لابی و در طبقات ۱ تا ۵ واحدهای مسکونی قرار دارند. در هر طبقه‌ی این برج ۵ نفر زندگی می‌کنند و آسانسور برج نیز ۵ نفر ظرفیت دارد. در یک روز عجیب به دلیل به صدا درآمدن آژیر خطر، همه‌ی ساکنین پشت در آسانسور طبقه‌ی خودشان در یک صف می‌ایستند تا به لابی بروند. همچنین قبل از این اتفاق آسانسور در طبقه‌ی ۵ بوده است.

مرحله‌ی دوم سی و پنجمین المپیاد کامپیوتر کشور - آزمون چندگزینه‌ای

در هر مرحله آسانسور به سمت یکی از طبقات مورد نظر مدیر ساختمان حرکت می‌کند و به اندازه‌ی تعدادی که او مشخص کرده است افراد آن طبقه را از ابتدای صف سوار می‌کند. اگر آسانسور به لابی برسد، تمام افراد داخل آن پیاده می‌شوند و هیچ‌کس حق پیاده شدن در حین مسیر را ندارد. در هر طبقه، کسی که در اول صف قرار دارد و تابلوی طبقات آسانسور را می‌بیند به ازای هر باری که طبقه‌ی آن عوض می‌شود و او سوارش نیست یک واحد اعصابش خرد می‌شود. هدف مدیر ساختمان این است که مجموع اعصاب خردی اعضای برج کمینه شود. حداقل مجموع اعصاب خردی اعضای برج که مدیر ساختمان می‌تواند به آن برسد چقدر است؟

۴۵ (۱) ۵۵ (۲) ۷۵ (۳) ۵۰ (۴) ۷۰ (۵)

۱۰ پیکاسو نقاش مطرح سبک کوبیسم بود که توانایی نقاشی و رنگ‌آمیزی هر چیزی را داشت. او برای رنگ‌آمیزی درخت‌ها از دو اصل **عدم شلختگی** و **عدم کسل‌کنندگی** پیروی می‌کرد:

- عدم شلختگی: هیچ رأسی نباید بیش از دو رنگ متفاوت در میان رأس‌های مجاورش داشته باشد.
- عدم کسل‌کنندگی: باید از بیشترین تعداد رنگ ممکن در رنگ‌آمیزی رأس‌ها استفاده شود.

چند درخت ده رأسی وجود دارد که پیکاسو آن‌ها را با توجه به اصول رنگ‌آمیزی خود با دقیقاً چهار رنگ مختلف رنگ‌آمیزی می‌کند؟ دو درخت T_1 و T_2 متفاوت هستند، اگر و تنها اگر یالی مانند (u, v) در درخت T_1 بین دو رأس u و v وجود داشته باشد که در درخت T_2 قرار نداشته باشد.

۴۶۰۸۰ (۱) ۴۵۹۹۰ (۲) ۲۲۸۶۰ (۳) ۲۲۹۵۰ (۴) ۱۱۴۳۰ (۵)

۱۱ منظور از $f(x)$ باقی‌مانده‌ی تقسیم عدد صحیح x بر ۲ است؛ برای مثال $f(۱۵) = ۱$ و $f(۱۰) = ۰$ است. فرض کنید عددی صحیح مانند x داریم. الگوریتم زیر را در نظر بگیرید:

۱. مقدار k را برابر ۰ و مقدار $last$ را برابر ۱ - قرار بده.
۲. اگر $f(x) = ۰$ بود، به مرحله‌ی ۵ برو.
۳. اگر $last \neq ۱$ بود، مقدار k را یکی اضافه کن.
۴. مقدار $last$ را برابر ۱ قرار بده و به مرحله‌ی ۷ برو.
۵. اگر $last \neq ۰$ بود، مقدار k را یکی اضافه کن.
۶. مقدار $last$ را برابر ۰ قرار بده.
۷. مقدار x را برابر $\lfloor \frac{x}{k} \rfloor$ قرار بده.
۸. اگر $x > ۰$ بود، به مرحله‌ی ۲ برو.
۹. مقدار k را به عنوان خروجی اعلام کن.
۱۰. پایان.

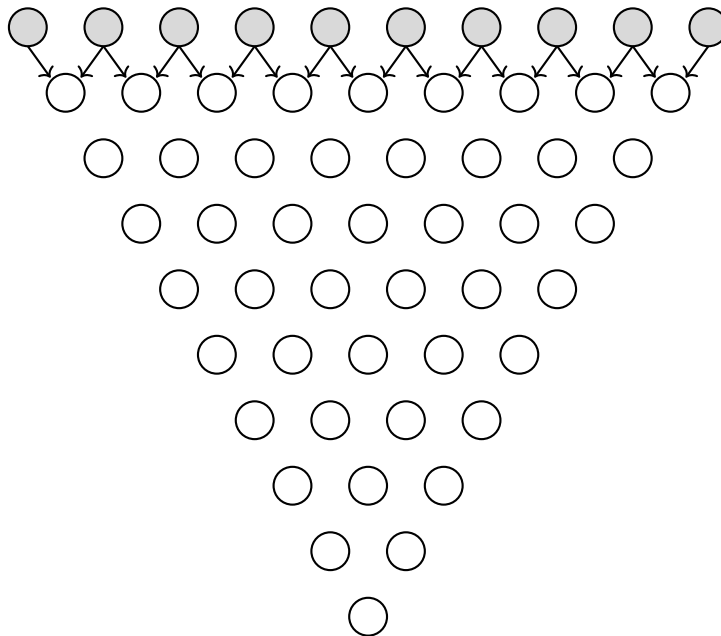
اگر الگوریتم بالا را به ازای تمام مقادیر $۱۰۲۴ < x \leq ۰$ انجام دهیم و خروجی نهایی آن‌ها را با یکدیگر جمع کنیم، حاصل برابر با چه عددی است؟

۵۱۲۱ (۱) ۲۵۶۰ (۲) ۵۶۳۲ (۳) ۵۱۲۰ (۴) ۴۶۰۸ (۵)

مرحله‌ی دوم سی و پنجمین المپیاد کامپیوتر کشور - آزمون چندگزینه‌ای

۱۲

در شکل زیر، ابتدا خانه‌های بالاترین سطر را با اعداد ۰، ۱ یا ۲ پر می‌کنیم و سپس هر خانه از سطرهاى دیگر برابر مجموع دو خانه‌ی بالایی‌اش می‌شود. به ازای چند حالت مقداردهی اعداد بالاترین سطر، مجموع اعداد آن و همچنین عدد نهایی خانه‌ی پایین هرم هردو مضربی از ۳ می‌شوند؟



۱۹۶۸۳ (۵)

۷۶۸ (۴)

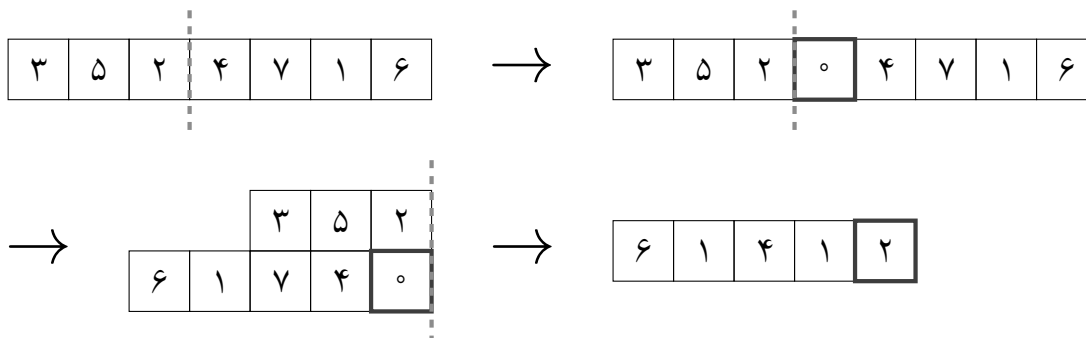
۲۳۰۴ (۳)

۶۵۶۱ (۲)

۱۵۳۶ (۱)

۱۳

نواری به طول ۷ داریم که در ابتدا روی آن اعداد ۱ تا ۷ نوشته شده‌اند. عمل تازا را بدین شکل تعریف می‌کنیم؛ ابتدا خطی دلخواه میان دو خانه‌ی مجاور از نوار انتخاب می‌کنیم. سپس یک خانه‌ی جدید با عدد صفر به سمت راست خط اولیه اضافه می‌کنیم. در ادامه نوار را از خط اولیه تا می‌کنیم و به جای مقادیر خانه‌هایی که روی هم قرار گرفته‌اند، مقدار یای انحصاری (XOR) آن دو خانه را قرار می‌دهیم:



عملیات یای انحصاری دو عدد را در مبنای ۲ نظر می‌گیرد و هر رقمی که در این دو عدد متفاوت است، در حاصل برابر یک و باقی رقم‌ها برابر صفر خواهند بود؛ برای مثال حاصل یای انحصاری ۳ و ۵ برابر ۶ است:

$$3 \oplus 5 = 011_2 \oplus 101_2 = 110_2 = 6$$

مرحله‌ی دوم سی و پنجمین المپیاد کامپیوتر کشور - آزمون چندگزینه‌ای

عملیات تازا را می‌توان آنقدر روی آرایه انجام داد که طول آن برابر با ۲ شود. اگر قدرت تازایی یک آرایه را برابر حداکثر مقدار جمع دو عدد انتهایی آن پس از تعدادی حرکت دلخواه تعریف کنیم، جمع قدرت تازایی تمام جایگشت‌های اعداد ۱ تا ۷ چند است؟

- (۱) ۴۰۳۲۰ (۲) ۳۲۲۵۶ (۳) ۷۰۵۶۰ (۴) ۱۶۱۲۸ (۵) ۳۵۲۸۰

۱۴ باب اسفنجی ۳۵ همبرگر تهیه کرده است که تمامی آن‌ها را می‌خواهد سرخ کند. سرخ شدن دو سمت هر همبرگر در مجموع ۱۴۰۴ ثانیه طول می‌کشد؛ یعنی اگر سمت زیرین همبرگر i ام به t_i ثانیه برای سرخ شدن نیاز داشته باشد، سمت دیگر آن به $1404 - t_i$ ثانیه نیاز دارد. باب اسفنجی مقادیر t_i را می‌داند و متوجه شده است که تمامی آن‌ها عددی طبیعی و کوچک‌تر از ۱۴۰۴ هستند.

در ابتدا باب اسفنجی هرکدام از ۳۵ همبرگر را به طور همزمان از سمت دلخواه خود روی اجاق می‌گذارد و به شستن ظرف‌ها می‌پردازد. همچنین باب اسفنجی نباید هیچ سمتی از همبرگرها را بسوزاند؛ برای همین می‌تواند هر زمانی که دلش می‌خواهد از ظرف شستن دست بکشد و یک زیرمجموعه‌ی دلخواه از همبرگرها را انتخاب و در زمانی ناچیز برگرداند تا سمت دیگر آن به سرخ شدن ادامه دهد. حداقل تعداد بارهایی که او لازم دارد تا قبل از پخته‌شدن همبرگرها دست از ظرف شستن بردارد تا بتواند آن‌ها را بدون سوزاندن حاضر کند چه قدر است؟

- (۱) ۱۷ (۲) ۱۱ (۳) ۱۰ (۴) ۳۵ (۵) ۱۲

۱۵ یک جدول 3×3 داریم که در یکی از خانه‌های آن موشی کور پنهان شده است. به هر سه خانه‌ای از جدول که هیچ دوتایی از آن‌ها هم‌سطر یا هم‌ستون نباشند یک قطر پراکنده و به هر سه خانه‌ای از جدول که در یک سطر، ستون یا قطر پراکنده باشند یک گروه می‌گوییم. هدف آن است که در کمترین تعداد مرحله موش کور را پیدا کنیم. در هر مرحله یکی از خانه‌های دلخواه جدول مانند A را بازبینی می‌کنیم و اگر موش کور در آن‌جا بود او را دستگیر می‌کنیم. در غیر این صورت اگر موش کور در خانه‌ای مانند B باشد، پس از اتمام بازبینی فرار کرده و به خانه‌ی هم‌گروهی A و B می‌رود. حداقل تعداد مراحل لازم برای دستگیری موش کور چند است؟

- (۱) ۱۲ (۲) ۱۷ (۳) نمی‌توان با یک روش قطعی موش کور را دستگیر کرد. (۴) ۹ (۵) ۸

حمید یک جدول 3×3 دارد که هر خانه‌ی آن با دقیقاً یکی از دو رنگ سیاه و سفید رنگ‌آمیزی شده است. رنگ محبوب یک سطر یا ستون، رنگی است که در آن سطر یا ستون بیشتر از رنگ دیگر تکرار شده است. حمید جدول را به ما نشان نمی‌دهد، اما رنگ محبوب تمام سطرها و ستون‌ها را به ما می‌گوید. عدد ابهام اطلاعات حمید برابر تعداد رنگ‌آمیزی‌های ممکن از جدول است که با اطلاعاتی که به ما داده است، سازگاری داشته باشد.

_____ با توجه به توضیحات بالا به ۳ سوال زیر پاسخ دهید _____

۱۶ اگر حمید بگوید رنگ محبوب تمام سطرها و ستون‌ها سیاه است، عدد ابهام اطلاعات داده شده چه مقداری است؟

- (۱) ۳۴ (۲) ۱۸ (۳) ۲۵ (۴) ۳۳ (۵) ۶

۱۷ به ازای چند حالت از اطلاعاتی که حمید می‌تواند به ما بدهد، عدد ابهام برابر صفر است؟

- (۱) ۲ (۲) ۸ (۳) ۱۶ (۴) ۷ (۵) ۱۴

مرحله‌ی دوم سی و پنجمین المپیاد کامپیوتر کشور - آزمون چندگزینه‌ای

بیشترین عدد ابهام اطلاعاتی که حمید می‌تواند به ما بدهد برابر چه مقداری است؟

۱۸

۲۵ (۵)

۳۴ (۴)

۴۲ (۳)

۶۴ (۲)

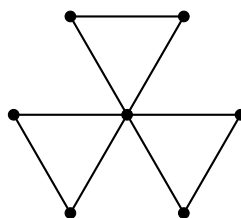
۵۴ (۱)

آقای مجری یک گراف به بیعی می‌دهد و از او می‌خواهد که بیشترین تعداد یال را به گراف اضافه کند، به طوری که همچنان ساده بماند و اندازه‌ی بزرگ‌ترین زیرگراف کامل آن تغییری نکند. به زیرگرافی که بین هر دو رأس آن دقیقاً یک یال وجود دارد زیرگراف کامل می‌گوییم.

با توجه به توضیحات بالا به ۲ سوال زیر پاسخ دهید

۱۹ اگر آقای مجری گراف زیر را به بیعی بدهد، بیعی حداکثر چند یال می‌تواند اضافه کند؟

۱۹



۸ (۵)

۹ (۴)

۶ (۳)

۵ (۲)

۴ (۱)

۲۰ گراف Q_n یک ابرمکعب 2^n رأسی است که هر رأس آن نمایانگر یک رشته‌ی دودویی n رقمی می‌باشد و بین رأس‌هایی که رشته‌ی دودویی آن‌ها دقیقاً در یک رقم تفاوت دارند یال وجود دارد. اگر آقای مجری گراف Q_8 را به بیعی بدهد، بیعی حداکثر چند یال می‌تواند اضافه کند؟

۲۰

۱۵۳۶۰ (۵)

۶۴۰۰ (۴)

۶۳۰۷ (۳)

۱۴۳۳۶ (۲)

۱۶۳۸۴ (۱)



مبارزه علمی برای جوانان، زنده کردن روح جست‌وجو و کشف واقعیتهاست. «امام خمینی (ره)»

دفترچه سؤالات مرحله دوم

سی و پنجمین دوره المپیاد کامپیوتر (روز دوم)

سال ۱۴۰۳-۱۴۰۴

تاریخ: ۱۴۰۴ / ۱ / ۲۶ - ساعت: ۸:۰۰ - مدت: ۲۷۰ دقیقه - نوع: تشریحی

استفاده از هر نوع ماشین حساب ممنوع است

توضیحات مهم

- ۱- بلافاصله پس از آغاز آزمون، تعداد سؤالات داخل دفترچه و همه برگه‌های دفترچه سؤالات را بررسی نمایید. در صورت هرگونه نقص در دفترچه، در اسرع وقت مسئول جلسه را مطلع کنید.
- ۲- عملیات تصحیح توسط مصححین پس از برش سربرگ به صورت ناشناس انجام خواهد شد. لذا از درج هرگونه نوشته یا علامت مشخصه که نشان‌دهنده صاحب برگه باشد، خودداری نمایید. در غیر این صورت تقلب محسوب شده و در هر مرحله‌ای که باشید از ادامه حضور در المپیاد محروم خواهید شد.
- ۳- با توجه به اینکه پاسخ‌برگ‌ها به نام شما صادر شده است امکان ارائه هیچ‌گونه برگه اضافه وجود نخواهد داشت. لذا توصیه می‌شود ابتدا سؤالات را در برگه چرک‌نویس، حل کرده و آنگاه در پاسخ‌برگ پاک‌نویس نمایید.
- ۴- دفترچه سؤال باید همراه پاسخ‌برگ تحویل داده شود.
- ۵- از مخدوش کردن بارکدها و مربع‌ها در چهارگوشه صفحه در دفترچه پاسخ‌برگ جداً خودداری کنید. در غیر این صورت برگه شما تصحیح نخواهد شد.
- ۶- همراه داشتن هرگونه کتاب، جزوه، یادداشت و لوازم الکترونیکی نظیر تلفن همراه، ساعت هوشمند، دستبند هوشمند و لپ‌تاپ ممنوع است. همراه داشتن این قبیل وسایل حتی اگر از آن استفاده نکنید یا خاموش باشد تقلب محسوب خواهد شد.
- ۷- تصحیح برگه آزمون روز دوم، مشروط به کسب حد نصاب مورد نظر کمیته علمی در آزمون چندگزینه‌ای روز اول مرحله دوم دارد. در غیر این صورت نمره آزمون روز دوم مطابق با ردم بندی صفر در نظر گرفته خواهد شد.
- ۸- این دفترچه شامل ۴ سوال و با احتساب جلد ۳ برگ است.
- ۹- سؤالات ترتیب خاصی ندارند و لزوماً از ساده به سخت نیستند. شخصیت و داستان سؤالات ربطی به حل سؤالات ندارند و صرفاً جنبه طنز دارند.

سوال ۱: تعویض اتاق امتیاز ۱۸

یک هتل دارای n اتاق است و در هر اتاق آن، دقیقاً یک نفر حضور دارد. در هر مرحله می‌توانیم دو اتاق را انتخاب کرده و افراد داخل آن‌ها را با هم جابه‌جا کنیم. در هر جابه‌جایی، هیچ کدام از دو نفر نباید به اتاقی برود که در یکی از مراحل قبلی در آن حضور داشته است. هدف این است که هر فرد، حضور در هر یک از n اتاق هتل را تجربه کند. اگر این کار امکان‌پذیر باشد، می‌گوییم n عددی «کامل» است. برای مثال، ۲ عددی کامل است؛ زیرا اگر $n = 2$ باشد، با یک جابه‌جایی به هدفمان می‌رسیم. همچنین می‌توان نشان داد که ۳ عدد کاملی نیست.

فرض کنید اعداد طبیعی m و n هر دو کامل باشند. در این صورت ثابت کنید حاصل ضرب آن‌ها (یعنی عدد mn) نیز کامل است. برای گرفتن ۵ امتیاز از این سوال، کافی است نشان دهید که اگر n عددی کامل باشد، آن‌گاه $2n$ نیز عددی کامل است.

سوال ۲: گراف زیبا..... ۲۰ امتیاز

به یک گراف «زیبا» می‌گوییم، اگر همه‌ی شرایط زیر را داشته باشد:

- ساده باشد.
- تعداد رأس‌های آن 2025 باشد.
- هر دور آن دقیقاً 4 رأس داشته باشد.

الف) فرض کنید G یک گراف زیبا باشد. ثابت کنید می‌توان یک یال به G اضافه کرد، طوری که گراف حاصل ساده بماند و طول بزرگ‌ترین دور آن از 4 بیش‌تر نشود. [۱۴ امتیاز]

ب) یک گراف زیبای G ارائه دهید که با اضافه کردن هم‌زمان هر دو یالی به G ، گراف حاصل حداقل یکی از دو شرط زیر را داشته باشد: [۶ امتیاز]

۱. گراف حاصل ساده نباشد.
۲. طول بزرگ‌ترین دور گراف حاصل از 4 بیش‌تر باشد.

سوال ۳: گراف بازی ۲۰ امتیاز

فاطمه و علی در حال بازی روی گرافی 20×25 رأسی هستند که در ابتدا هیچ یالی ندارد. در هر مرحله، ابتدا فاطمه رأس‌ها را به دو دسته افراز می‌کند و سپس، علی دو رأس غیر مجاور را که در یک دسته باشند انتخاب و یال بین آن‌ها را رسم می‌کند. اگر در مرحله‌ای یک مسیر به طول ۳ (یعنی یک مسیر با ۴ رأس و ۳ یال) در گراف حاصل ایجاد شود، بازی به پایان می‌رسد.

الف) فرض کنید فاطمه می‌خواهد تعداد مراحل بیشینه و علی می‌خواهد تعداد مراحل کمینه شود. اگر هر دو نفر در طول بازی، بهترین حرکت ممکن را برای رسیدن به هدفشان انجام دهند، بازی پس از چند مرحله پایان می‌یابد؟ [۱۰ امتیاز]

ب) فرض کنید فاطمه می‌خواهد تعداد مراحل کمینه و علی می‌خواهد تعداد مراحل بیشینه شود. اگر هر دو نفر در طول بازی، بهترین حرکت ممکن را برای رسیدن به هدفشان انجام دهند، بازی پس از چند مرحله پایان می‌یابد؟ [۱۰ امتیاز]

سوال ۴: پر کردن جدول ۲۲ امتیاز

یک جدول 2025×2025 داریم. یک خانه از این جدول را خانه‌ای «در حاشیه‌ی جدول» می‌گوییم اگر در سطر اول، سطر آخر، ستون اول یا ستون آخر جدول باشد. دو خانه از جدول «مجاور» هستند اگر و تنها اگر در دقیقاً یک ضلع مشترک باشند. به دنباله‌ای از خانه‌های جدول که عضو ابتدا و انتهای آن به ترتیب A و B است و هر دو عضو متوالی آن مجاور هم هستند نیز یک «مسیر» بین دو خانه‌ی A و B می‌گوییم. می‌خواهیم در هر یک از خانه‌های جدول، یکی از اعداد 1 تا k را قرار دهیم به طوری که همه‌ی شرایط زیر رعایت شوند:

- از هر عدد حداکثر دو بار استفاده شده باشد.
- اگر دو خانه دارای عدد یکسان x باشند، هر کوتاه‌ترین مسیر بین آن دو خانه، شامل حداقل یک خانه با عددی اکیداً بزرگ‌تر از x باشد. طبیعتاً در این صورت دو خانه‌ی مجاور هم نباید عدد یکسانی داشته باشند.
- عدد هر خانه در حاشیه‌ی جدول اکیداً بزرگ‌تر از عدد هر خانه‌ای باشد که در حاشیه‌ی جدول نیست.

کم‌ترین مقدار ممکن برای k را بیابد.

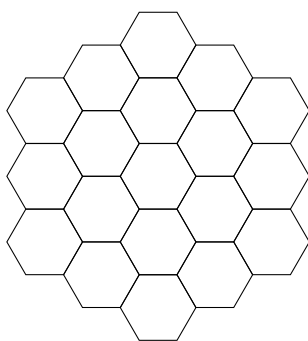
برای پاسخ کامل این سوال، لازم است یک عدد q ارائه دهید و به‌ازای آن، هر دو کار زیر را انجام دهید. طبیعتاً اگر موفق به انجام فقط یکی از دو مورد شوید، بخشی از امتیاز سوال به شما تعلق می‌گیرد.

۱. برای پر کردن جدول، شیوه‌ای ارائه دهید که در آن، $k = q$ باشد.
۲. ثابت کنید شیوه‌ای برای پر کردن جدول وجود ندارد که در آن، $k < q$ باشد.

مرحله‌ی دوم سی و پنجمین المپیاد کامپیوتر کشور - آزمون چندگزینه‌ای

- زمان آزمون ۲۱۰ دقیقه است.
- آزمون ۲۰ سوال دارد.
- پاسخ درست به هر سوال ۴ نمره‌ی مثبت و پاسخ نادرست به هر سوال ۱ نمره‌ی منفی دارد.
- ترتیب گزینه‌ها به طور تصادفی است.
- سوالات ۱۶ تا ۲۰ در دسته‌های چند سوالی آمده‌اند و قبل از هر دسته توضیحی ارائه شده است.

۱ می‌خواهیم خانه‌های شکل زیر را با رنگ‌های سفید و سیاه رنگ‌آمیزی کنیم. تلاطم یک رنگ‌آمیزی برابر با تعداد جفت خانه‌های هم‌رنگی است که یک ضلع مشترک دارند. کمترین میزان تلاطم که می‌توانیم با رنگ‌آمیزی جدول به دست آوریم چند است؟



۱۲ (۵)

۱۴ (۴)

۹ (۳)

۱۰ (۲)

۱۳ (۱)

پاسخ: گزینه‌ی ۵ درست است.

□

۲ الگوریتم زیر را در نظر بگیرید:

۱. آرایه‌ی A به طول n را ورودی بگیر.
۲. اگر آرایه‌ی A مرتب بود، به مرحله‌ی ۷ برو.
۳. دو آرایه‌ی $X = A[1 \dots \lfloor \frac{n}{3} \rfloor]$ و $Y = A[\lfloor \frac{n}{3} \rfloor + 1 \dots n]$ را در نظر بگیر.
۴. عدد صحیح t را ورودی بگیر؛ اگر t عددی زوج بود، به مرحله‌ی ۶ برو.
۵. آرایه‌ی A را برابر با X و مقدار n را برابر با $\lfloor \frac{n}{3} \rfloor$ قرار بده. سپس به مرحله‌ی ۲ برو.
۶. آرایه‌ی A را برابر با Y و مقدار n را برابر با $n - \lfloor \frac{n}{3} \rfloor$ قرار بده. سپس به مرحله‌ی ۲ برو.
۷. آرایه‌ی A را خروجی بده.
۸. پایان.

منظور از $A[l \dots r]$ بازه‌ی l تا r از آرایه‌ی A (شامل خود l و r) است؛ برای مثال اگر $A = \langle 2, 1, 3, 5, 4 \rangle$ باشد $A[2 \dots 4] = \langle 1, 3, 5 \rangle$ می‌شود. اگر مقادیر t را به صورتی ورودی دهیم که طول آرایه‌ی نهایی بیشینه شود، به ازای چند جایگشت اولیه از اعداد ۱ تا ۸ طول آرایه‌ی نهایی حداقل برابر با ۲ خواهد بود؟

۳۷۸۰۰ (۵)

۳۰۲۴۰ (۴)

۳۴۵۱۰ (۳)

۴۰۳۲۰ (۲)

۲۰۱۶۰ (۱)

مرحله‌ی دوم سی و پنجمین المپیاد کامپیوتر کشور - آزمون چندگزینه‌ای

پاسخ: گزینه‌ی ۵ درست است.

□

۳ در شهر جادوگرها شش نفر زندگی می‌کنند که هرکدام از آن‌ها راستگو یا دروغگو هستند. افراد راستگو همواره راست و افراد دروغگو همواره دروغ می‌گویند. سِلتی می‌خواهد متوجه راستگو یا دروغگو بودن هرکدام از آن‌ها شود و در نتیجه از آن‌ها خواست اطلاعاتی در رابطه با خود و دیگران به او بدهند:

- فرد A : B دروغ می‌گوید.
- فرد B : حداقل یکی از A و C دروغ می‌گویند.
- فرد C : A راست می‌گوید.
- فرد D : دقیقاً دو نفر راست می‌گویند.
- فرد E : D دروغ می‌گوید.
- فرد F : دقیقاً سه نفر راست می‌گویند.

سلتی به چند طریق می‌تواند راستگو یا دروغگو بودن افراد را مشخص کند، به نحوی که تناقضی در گفته‌های هیچ‌کدام از آن‌ها وجود نداشته باشد؟

۱ (۵)

۴ (۴)

۵ (۳)

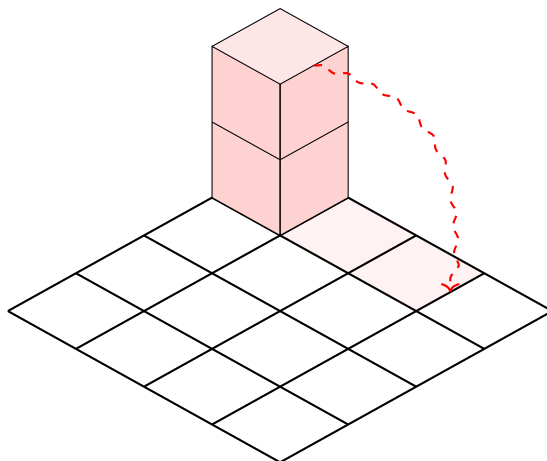
۲ (۲)

۳ (۱)

پاسخ: گزینه‌ی ۲ درست است.

□

۴ یک شش وجهی صورتی $2 \times 1 \times 1$ داریم که در یکی از گوشه‌های جدول 4×4 مانند شکل زیر قرار دارد. در هر گام می‌توان آن را روی یکی از وجه‌هایش غلتاند (به شرطی که از جدول بیرون نزنند) و تمام خانه‌های زیر آن را به رنگ صورتی درآورد (یک خانه می‌تواند چندین بار رنگ‌آمیزی شود). در ابتدا تمام خانه‌های جدول به جز خانه‌ی زیرین شش وجهی سفید هستند. حداقل چند گام لازم داریم تا کل جدول را به رنگ صورتی درآوریم؟



۸ (۵)

۹ (۴)

۱۲ (۳)

۱۰ (۲)

۱۱ (۱)

پاسخ: گزینه‌ی ۴ درست است.

□

۵ جدولی 2×3 داریم که در آن سه جفت A, B, C وجود دارند. فاصله‌ی منتهی دو خانه‌ی (x, y) و (x', y') برابر با $|x - x'| + |y - y'|$ است؛ برای مثال در جدول زیر اگر مختصات هر خانه از جدول را برابر با شماره‌ی سطر و ستون آن در نظر بگیریم، جمع فواصل منتهی این سه جفت برابر با $5 = 1 + 1 + 3$ می‌شود. به ازای تمام حالات چینش این سه جفت در جدول، امید ریاضی جمع فواصل منتهی این جفت‌ها چه قدر است؟

B	B	A
A	C	C

۶ (۵)

۱۰ (۴)

۵ (۳)

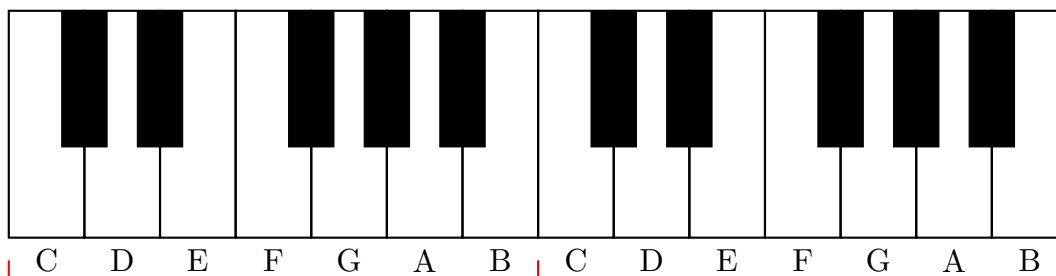
$\frac{11}{3}$ (۲)

$\frac{9}{4}$ (۱)

پاسخ: گزینه‌ی ۳ درست است.

□

۶ صفحه کلید پیانو از هفت اکتاو با چینشی یکسان تشکیل می‌شود که کنار هم قرار می‌گیرند. هر اکتاو از دوازده کلید سیاه و سفید تشکیل می‌شود که در چینش استاندارد، این ترکیب از هفت کلید سفید و پنج کلید سیاه تشکیل شده است. در شکل زیر می‌توانید چینش دو اکتاو متوالی در صفحه کلید اصلی پیانو را ببینید:



اکتاو

به دلیل کوچک‌تر بودن کلیدهای سیاه و سختی فشردن آن‌ها، نمی‌توان دو کلید سیاه پشت سر هم در صفحه کلید داشت و باید بین هر دو کلید سیاه مجاور حداقل یک کلید سفید وجود داشته باشد. با توجه به این محدودیت، چند اکتاو معتبر به طول ۱۲ با تعداد کلیدهای سفید و سیاه دلخواه می‌توان ساخت که در کل صفحه کلید (در یک اکتاو یا بین دو اکتاو متوالی) هیچ دو کلید سیاه مجاوری وجود نداشته باشد؟

۱۴۴ (۵)

۳۲۲ (۴)

۲۸۸ (۳)

۲۳۳ (۲)

۳۷۷ (۱)

پاسخ: گزینه‌ی ۴ درست است.

□

مرحله‌ی دوم سی و پنجمین المپیاد کامپیوتر کشور - آزمون چندگزینه‌ای

۷ هفت دیو با قدرت‌های $\langle 1, 5, 6, 8, 10, 12, 13 \rangle$ و هفت انسان با قدرت‌های $\langle 2, 3, 4, 7, 9, 11, 14 \rangle$ داریم. می‌دانیم در هر جنگ، هفت جفت انسان و دیو نبرد تن به تن می‌کنند و از هر جفت، فرد قدرتمندتر زنده می‌ماند. دو چینش در صورتی متمایزند که فردی وجود داشته باشد که رقیب او در این دو چینش متفاوت باشد. به ازای چند چینش اولیه، تعداد انسان‌هایی که زنده می‌مانند بیشترین مقدار ممکن است؟

۲۴ (۵) ۱۰۸ (۴) ۷۲ (۳) ۱۴۴ (۲) ۴۲۰ (۱)

پاسخ: گزینه‌ی ۲ درست است.

□

۸ جایگشتی از اعداد ۱ تا ۱۰ را در نظر بگیرید که می‌توانیم عملیات زیر را به تعدادی دلخواه روی آن انجام دهیم: در هر مرحله عددی دلخواه از جایگشت که تا به حال آن را انتخاب نکرده‌ایم را از جایگشت حذف و سپس به انتهای آن اضافه می‌کنیم؛ برای مثال جایگشت زیر پس از انتخاب عدد ۹ (در صورتی که تا به حال انتخاب نشده باشد) بدین شکل تغییر می‌یابد:

$\langle 4, 1, 6, 2, 3, 5, 10, 7, 8, 9 \rangle \rightarrow \langle 4, 1, 6, 2, 3, 5, 10, 7, 8 \rangle$

تعداد جایگشت‌های اولیه‌ای که می‌توان با انجام دقیقاً پنج مرحله آن‌ها را تبدیل به یک جایگشت صعودی یا نزولی کرد چه قدر است؟

۱۵۱۲۰ (۵) ۶۰۴۸۰ (۴) ۳۰۴۹۲ (۳) ۳۰۲۴۰ (۲) ۶۰۲۲۸ (۱)

پاسخ: گزینه‌ی ۱ درست است.

□

۹ برج سرداد ۵ طبقه دارد که در طبقه‌ی همکف لابی و در طبقات ۱ تا ۵ واحدهای مسکونی قرار دارند. در هر طبقه‌ی این برج ۵ نفر زندگی می‌کنند و آسانسور برج نیز ۵ نفر ظرفیت دارد. در یک روز عجیب به دلیل به صدا درآمدن آژیر خطر، همه‌ی ساکنین پشت در آسانسور طبقه‌ی خودشان در یک صف می‌ایستند تا به لابی بروند. همچنین قبل از این اتفاق آسانسور در طبقه‌ی ۵ بوده است.

در هر مرحله آسانسور به سمت یکی از طبقات مورد نظر مدیر ساختمان حرکت می‌کند و به اندازه‌ی تعدادی که او مشخص کرده است افراد آن طبقه را از ابتدای صف سوار می‌کند. اگر آسانسور به لابی برسد، تمام افراد داخل آن پیاده می‌شوند و هیچ‌کس حق پیاده شدن در حین مسیر را ندارد. در هر طبقه، کسی که در اول صف قرار دارد و تابلوی طبقات آسانسور را می‌بیند به ازای هر باری که طبقه‌ی آن عوض می‌شود و او سوارش نیست یک واحد اعصابش خرد می‌شود. هدف مدیر ساختمان این است که مجموع اعصاب خردی اعضای برج کمینه شود. حداقل مجموع اعصاب خردی اعضای برج که مدیر ساختمان می‌تواند به آن برسد چقدر است؟

۷۰ (۵) ۵۰ (۴) ۷۵ (۳) ۵۵ (۲) ۴۵ (۱)

پاسخ: گزینه‌ی ۴ درست است.

□

۱۰ پیکاسو نقاش مطرح سبک کوبیسم بود که توانایی نقاشی و رنگ‌آمیزی هرچیزی را داشت. او برای رنگ‌آمیزی درخت‌ها از دو اصل عدم شلختگی و عدم کسل‌کنندگی پیروی می‌کرد:

- عدم شلختگی: هیچ رأسی نباید بیش از دو رنگ متفاوت در میان رأس‌های مجاورش داشته باشد.
- عدم کسل‌کنندگی: باید از بیشترین تعداد رنگ ممکن در رنگ‌آمیزی رأس‌ها استفاده شود.

چند درخت ده رأسی وجود دارد که پیکاسو آن‌ها را با توجه به اصول رنگ‌آمیزی خود با دقیقاً چهار رنگ مختلف رنگ‌آمیزی می‌کند؟ دو درخت T_1 و T_2 متفاوت هستند، اگر و تنها اگر یالی مانند (u, v) در درخت T_1 بین دو رأس u و v وجود داشته باشد که در درخت T_2 قرار نداشته باشد.

۱۱۴۳۰ (۵) ۲۲۹۵۰ (۴) ۲۲۸۶۰ (۳) ۴۵۹۹۰ (۲) ۴۶۰۸۰ (۱)

پاسخ: گزینه‌ی ۵ درست است.

□

۱۱ منظور از $f(x)$ باقی‌مانده‌ی تقسیم عدد صحیح x بر ۲ است؛ برای مثال $f(۱۵) = ۱$ و $f(۱۰) = ۰$ است. فرض کنید عددی صحیح مانند x داریم. الگوریتم زیر را در نظر بگیرید:

۱. مقدار k را برابر ۰ و مقدار $last$ را برابر ۱ - قرار بده.

۲. اگر $f(x) = ۰$ بود، به مرحله‌ی ۵ برو.

۳. اگر $last \neq ۱$ بود، مقدار k را یکی اضافه کن.

۴. مقدار $last$ را برابر ۱ قرار بده و به مرحله‌ی ۷ برو.

۵. اگر $last \neq ۰$ بود، مقدار k را یکی اضافه کن.

۶. مقدار $last$ را برابر ۰ قرار بده.

۷. مقدار x را برابر $\lfloor \frac{x}{2} \rfloor$ قرار بده.

۸. اگر $x > ۰$ بود، به مرحله‌ی ۲ برو.

۹. مقدار k را به عنوان خروجی اعلام کن.

۱۰. پایان.

اگر الگوریتم بالا را به ازای تمام مقادیر $۱۰۲۴ < x \leq ۰$ انجام دهیم و خروجی نهایی آن‌ها را با یکدیگر جمع کنیم، حاصل برابر با چه عددی است؟

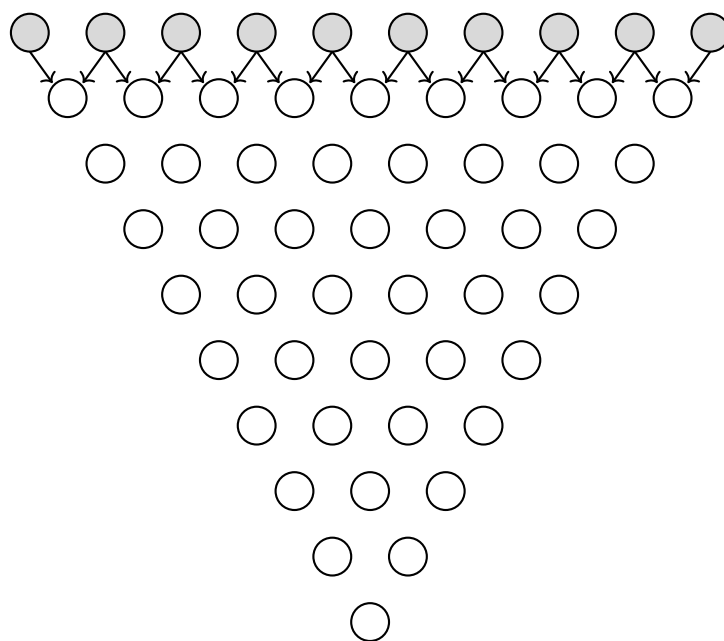
۴۶۰۸ (۵) ۵۱۲۰ (۴) ۵۶۳۲ (۳) ۲۵۶۰ (۲) ۵۱۲۱ (۱)

پاسخ: گزینه‌ی ۱ درست است.

□

۱۲ در شکل زیر، ابتدا خانه‌های بالاترین سطر را با اعداد ۰، ۱ یا ۲ پر می‌کنیم و سپس هر خانه از سطرهای دیگر برابر مجموع دو خانه‌ی بالایی‌اش می‌شود. به ازای چند حالت مقداردهی اعداد بالاترین سطر، مجموع اعداد آن و همچنین عدد نهایی خانه‌ی پایین هرم هردو مضربی از ۳ می‌شوند؟

مرحله‌ی دوم سی و پنجمین المپیاد کامپیوتر کشور - آزمون چندگزینه‌ای



۱۹۶۸۳ (۵)

۷۶۸ (۴)

۲۳۰۴ (۳)

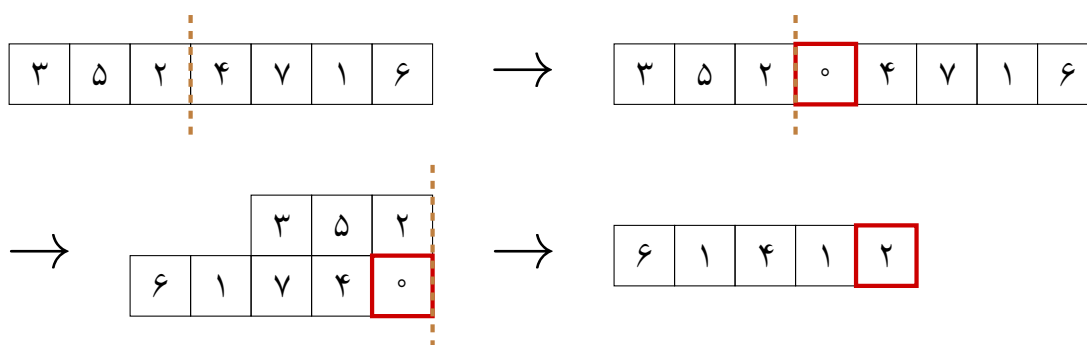
۶۵۶۱ (۲)

۱۵۳۶ (۱)

پاسخ: گزینه‌ی ۲ درست است.

□

نواری به طول ۷ داریم که در ابتدا روی آن اعداد ۱ تا ۷ نوشته شده‌اند. عمل تازا را بدین شکل تعریف می‌کنیم؛ ابتدا خطی دلخواه میان دو خانه‌ی مجاور از نوار انتخاب می‌کنیم. سپس یک خانه‌ی جدید با عدد صفر به سمت راست خط اولیه اضافه می‌کنیم. در ادامه نوار را از خط اولیه تا می‌کنیم و به جای مقادیر خانه‌هایی که روی هم قرار گرفته‌اند، مقدار یای انحصاری (XOR) آن دو خانه را قرار می‌دهیم:



عملیات یای انحصاری دو عدد را در مبنای ۲ نظر می‌گیرد و هر رقمی که در این دو عدد متفاوت است، در حاصل برابر یک و باقی رقم‌ها برابر صفر خواهند بود؛ برای مثال حاصل یای انحصاری ۳ و ۵ برابر ۶ است:

$$3 \oplus 5 = 011_2 \oplus 101_2 = 110_2 = 6$$

عملیات تازا را می‌توان آن قدر روی آرایه انجام داد که طول آن برابر با ۲ شود. اگر قدرت تازایی یک آرایه را

مرحله‌ی دوم سی و پنجمین المپیاد کامپیوتر کشور - آزمون چندگزینه‌ای

برابر حداکثر مقدار جمع دو عدد انتهایی آن پس از تعدادی حرکت دلخواه تعریف کنیم، جمع قدرت تازایی تمام جایگشت‌های اعداد ۱ تا ۷ چند است؟

- (۱) ۴۰۳۲۰ (۲) ۳۲۲۵۶ (۳) ۷۰۵۶۰ (۴) ۱۶۱۲۸ (۵) ۳۵۲۸۰

پاسخ: گزینه‌ی ۲ درست است.

□

۱۴ باب اسفنجی ۳۵ همبرگر تهیه کرده است که تمامی آن‌ها را می‌خواهد سرخ کند. سرخ شدن دو سمت هر همبرگر در مجموع ۱۴۰۴ ثانیه طول می‌کشد؛ یعنی اگر سمت زیرین همبرگر i ام به t_i ثانیه برای سرخ شدن نیاز داشته باشد، سمت دیگر آن به $1404 - t_i$ ثانیه نیاز دارد. باب اسفنجی مقادیر t_i را می‌داند و متوجه شده است که تمامی آن‌ها عددی طبیعی و کوچک‌تر از ۱۴۰۴ هستند.

در ابتدا باب اسفنجی هر کدام از ۳۵ همبرگر را به طور همزمان از سمت دلخواه خود روی اجاق می‌گذارد و به شستن ظرف‌ها می‌پردازد. همچنین باب اسفنجی نباید هیچ سمتی از همبرگرها را بسوزاند؛ برای همین می‌تواند هر زمانی که دلش می‌خواهد از ظرف شستن دست بکشد و یک زیرمجموعه‌ی دلخواه از همبرگرها را انتخاب و در زمانی ناچیز برگرداند تا سمت دیگر آن به سرخ شدن ادامه دهد. حداقل تعداد بارهایی که او لازم دارد تا قبل از پخته‌شدن همبرگرها دست از ظرف شستن بردارد تا بتواند آن‌ها را بدون سوزاندن حاضر کند چه قدر است؟

- (۱) ۱۷ (۲) ۱۱ (۳) ۱۰ (۴) ۳۵ (۵) ۱۲

پاسخ: گزینه‌ی ۳ درست است.

□

۱۵ یک جدول 3×3 داریم که در یکی از خانه‌های آن موشی کور پنهان شده است. به هر سه خانه‌ای از جدول که هیچ دوتایی از آن‌ها هم‌سطر یا هم‌ستون نباشند یک قطر پراکنده و به هر سه خانه‌ای از جدول که در یک سطر، ستون یا قطر پراکنده باشند یک گروه می‌گوییم. هدف آن است که در کمترین تعداد مرحله موش کور را پیدا کنیم. در هر مرحله یکی از خانه‌های دلخواه جدول مانند A را بازبینی می‌کنیم و اگر موش کور در آن جا بود او را دستگیر می‌کنیم. در غیر این صورت اگر موش کور در خانه‌ای مانند B باشد، پس از اتمام بازبینی فرار کرده و به خانه‌ی هم‌گروهی A و B می‌رود. حداقل تعداد مراحل لازم برای دستگیری موش کور چند است؟

- (۱) ۱۲ (۲) ۱۷ (۳) نمی‌توان با یک روش قطعی موش کور را دستگیر کرد. (۴) ۹ (۵) ۸

پاسخ: گزینه‌ی ۴ درست است.

□

حمید یک جدول 3×3 دارد که هر خانه‌ی آن با دقیقاً یکی از دو رنگ سیاه و سفید رنگ‌آمیزی شده است. رنگ محبوب یک سطر یا ستون، رنگی است که در آن سطر یا ستون بیشتر از رنگ دیگر تکرار شده است. حمید جدول را به ما نشان نمی‌دهد، اما رنگ محبوب تمام سطرها و ستون‌ها را به ما می‌گوید. عدد ابهام اطلاعات حمید برابر تعداد رنگ‌آمیزی‌های ممکن از جدول است که با اطلاعاتی که به ما داده است، سازگاری داشته باشد.

مرحله‌ی دوم سی و پنجمین المپیاد کامپیوتر کشور - آزمون چندگزینه‌ای

با توجه به توضیحات بالا به ۳ سوال زیر پاسخ دهید

۱۶ اگر حمید بگوید رنگ محبوب تمام سطرها و ستون‌ها سیاه است، عدد ابهام اطلاعات داده شده چه مقداری است؟

- ۳۴ (۱) ۱۸ (۲) ۲۵ (۳) ۳۳ (۴) ۶ (۵)

پاسخ: گزینه‌ی ۱ درست است.

۱۷ به ازای چند حالت از اطلاعاتی که حمید می‌تواند به ما بدهد، عدد ابهام برابر صفر است؟

- ۲ (۱) ۸ (۲) ۱۶ (۳) ۷ (۴) ۱۴ (۵)

پاسخ: گزینه‌ی ۵ درست است.

۱۸ بیشترین عدد ابهام اطلاعاتی که حمید می‌تواند به ما بدهد برابر چه مقداری است؟

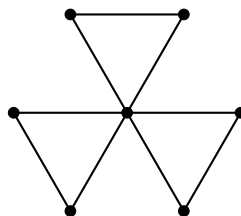
- ۵۴ (۱) ۶۴ (۲) ۴۲ (۳) ۳۴ (۴) ۲۵ (۵)

پاسخ: گزینه‌ی ۴ درست است.

آقای مجری یک گراف به بیعی می‌دهد و از او می‌خواهد که بیشترین تعداد یال را به گراف اضافه کند، به طوری که همچنان ساده بماند و اندازه‌ی بزرگ‌ترین زیرگراف کامل آن تغییری نکند. به زیرگرافی که بین هر دو رأس آن دقیقاً یک یال وجود دارد زیرگراف کامل می‌گوییم.

با توجه به توضیحات بالا به ۲ سوال زیر پاسخ دهید

۱۹ اگر آقای مجری گراف زیر را به بیعی بدهد، بیعی حداکثر چند یال می‌تواند اضافه کند؟



- ۴ (۱) ۵ (۲) ۶ (۳) ۹ (۴) ۸ (۵)

پاسخ: گزینه‌ی ۳ درست است.

مرحله‌ی دوم سی و پنجمین المپیاد کامپیوتر کشور - آزمون چندگزینه‌ای

□

۲۰ گراف Q_n یک ابرمکعب 2^n رأسی است که هر رأس آن نمایانگر یک رشته‌ی دودویی n رقمی می‌باشد و بین رأس‌هایی که رشته‌ی دودویی آن‌ها دقیقاً در یک رقم تفاوت دارند یال وجود دارد. اگر آقای مجری گراف Q_8 را به بیعی بدهد، بیعی حداکثر چند یال می‌تواند اضافه کند؟

۱۵۳۶۰ (۵)

۶۴۰۰ (۴)

۶۳۰۷ (۳)

۱۴۳۳۶ (۲)

۱۶۳۸۴ (۱)

پاسخ: گزینه‌ی ۵ درست است.

□